

Тема 11. Сравнение чисел

1



3 2 3 2

2

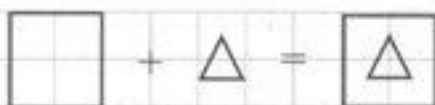
3 1 | 3 2 | 2 1



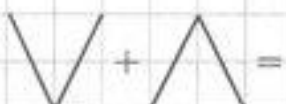
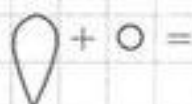
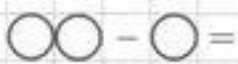
1 2 | 2 3 | 2 2

3 3 | 1 1 | 1 3

3



?



4

3 1 = 2 | 1 2 = 3

±

2 1 = 3 | 2 1 = 1

3 2 = 1 | 1 1 = 2


5

Цифру 1 подчеркни одной прямой линией, цифру 2 — двумя линиями, цифру 3 — тремя.

3 1 2 2 3 1 2 3 1 1 3 2



Одна клетка вниз. Одна клетка наискосок вправо вверх. Одна клетка вниз. Одна клетка наискосок вправо вверх. Одна клетка вниз. Продолжите узор.



Вставьте пропущенные знаки.

$$5 \square 5 = 10$$

$$1 \square 1 = 0$$

$$4 \square 2 = 2$$


$$2 \square 3 = 5$$

$$3 \square 3 = 6$$


$$7 \square 4 = 3$$



Найдите все чашки на рисунке.



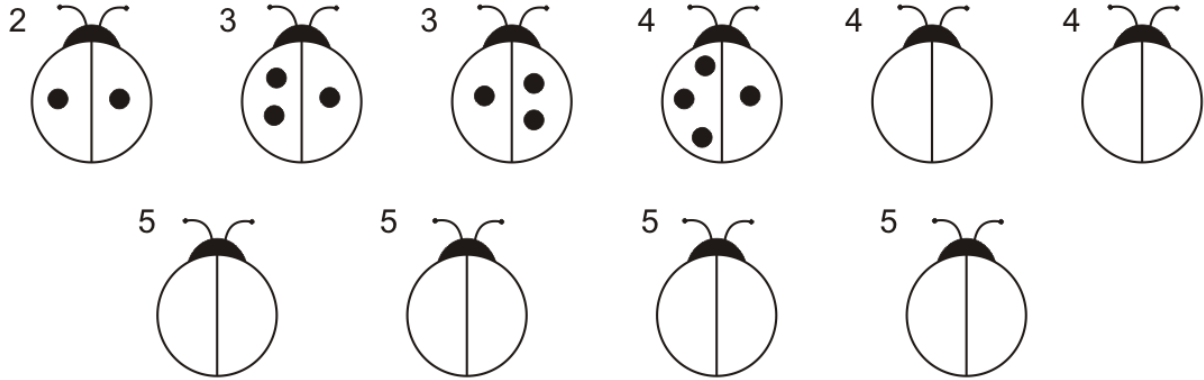
Перерисуйте собаку по клеточкам.



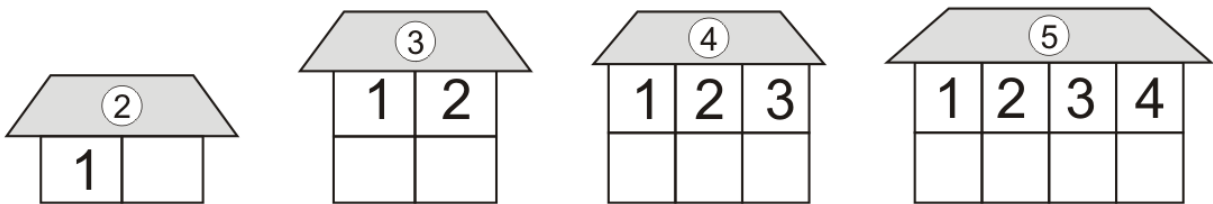


ГОТОВЛЮСЬ К ШКОЛЕ

Какими способами можно разделить на части числа 2, 3, 4, 5? Дорисуй картинки.









Засели домики числами.



Сравни какое число больше. На сколько больше?

Используй знаки: > < =

					
<input type="text" value="3"/>	<	<input type="text" value="4"/>	<input type="text"/>	<input type="text"/>	<input type="text"/>

